

CORRECTIONS CM2

Semaine 12 : Du lundi 15 au vendredi 19 juin 2020

LUNDI 15 juin (Monday, June, 15th 2020)

Grammaire : transposition.

Je serai magicienne. Je prendrai un chapeau et je ferai s'échapper des colombes. Je mélangerai des cartes et je donnerai une carte à tirer à un spectateur. Il prendra une carte et je la devinerai. **J'enfermerai mon assistante dans une boîte et je transpercerai la boîte avec des épées.** Les spectateurs aimeront ce tour de magie. **J'essaierai de varier les numéros.**

Mathématiques

1. Calcul mental

Corrige toi à l'aide d'une calculatrice.

2. Opérations

Corrige toi à l'aide d'une calculatrice !

3. Problème

Résous le problème suivant sur ton cahier.

Cinq personnes ont joué au loto et ont gagné 4 625 €.

Quelle somme revient à chacune d'elle ?

Je cherche la somme qui revient à chaque personne.

$$4625 : 5 = 925$$

La somme de 925 € revient à chacune d'elle.

4. Numération :

1 *

a. A = 2

B = 3

C = 4

D = 5

b. E = 0,3

F = 1,3

G = 2,5

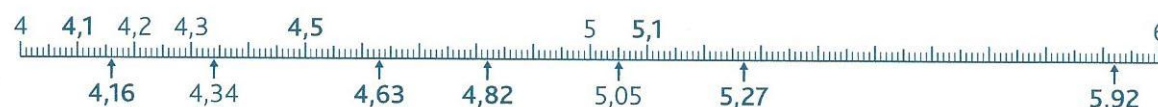
H = 4,2

I = 5,7

2 *



3 *



4 *

A = 0,1

B = 0,22

C = 0,36

D = 0,57

E = 0,8

F = 0,97

Lecture : chapitre 10

Chapitre 10 : Le quadrille de homards

1 – Qu'est-ce que le quadrille de homards ?

une danse

une chanson

un livre

2 – Quel est le titre de la chanson de la Fausse-Tortue ?

C'est la Soupe à la Tortue.

3 – Où partent Alice et le Griffon à la fin du chapitre ?

Ils partent au procès.

Géographie : Chypre

Réponds à ces questions sur ton cahier de brouillon, puis corrige-toi.

1. Quelle est la capitale de Chypre ?

C'est Nicosie.

2. Quelle est la monnaie utilisée ?

C'est l'euro.

3. Pourquoi Chypre apparaît en orange sur son drapeau ?

Le orange représente le cuivre, une ressource de l'île. Chypre signifie d'ailleurs « cuivre ».

4. Quel animal vient se reproduire sur la plage de Lara Beach ?

Ce sont les tortues vertes, des tortues de mer.

5. Quels autres animaux marins vivent dans les eaux de Chypre ?

Il y a des phoques, des mérours, des rascasses et même des requins.

MARDI 16 juin (Tuesday, june, 16th 2020)

Grammaire : le complément d'objet

Exercice 1 : Souligne le verbe en rouge et entoure le complément d'objet en violet.
Attention, ne pas confondre le complément d'objet et le complément circonstanciel. **Note**
COD ou COI sous chaque complément d'objet.

Il répondra à ton message dans la soirée. COI

Elles participaient à la préparation du spectacle tous les jours. COI

Nous prendrons le bus chaque matin. COD

L'élève de service distribue les cahiers avant l'entrée des élèves. COD

En histoire, Léo bénéficie de l'aide de son père. COI

Pendant le voyage, je pense à Sarah. COI

Exercice 2 : Compléter chaque phrase en ajoutant un complément d'objet direct.

Pascal attrape le ballon.

Vous lisez le journal

Tu découpes ta feuille.

Les élèves rangent leurs affaires.

Exercice 3 : Compléter chaque phrase en ajoutant un complément d'objet indirect commençant par « à » ou « au » (qui remplace « à le »).

Tu répondras à cet appel plus tard.

Les artistes songent à leur spectacle.

Ces enfants obéissent à leurs parents.

Mon frère rêve d'une île déserte.

Vous participez à un tournoi.

Nous jouons à la marelle.

Mathématiques

1. Calcul mental

Corrige toi à l'aide d'une calculatrice.

2. Opérations

Corrige toi à l'aide d'une calculatrice !

3. Problème

Résous le problème suivant sur ton cahier.

Dans un élevage industriel, un camion charge 5 500 poulets et 450 dindes. 172 bêtes meurent pendant le transport.

Combien de volailles reste-t-il à l'arrivée ?

Je cherche combien de volailles il reste à l'arrivée.

$$5\,500 + 450 = 5\,950$$

$$5\,950 - 172 = 5\,778$$

Il reste 5 778 volailles à l'arrivée.

4. Calcul

10 *

a.

$$\begin{array}{r} 76,1 \\ + 90,35 \\ + 42,4 \\ \hline 208,85 \end{array}$$

b.

$$\begin{array}{r} 841 \\ + 76,09 \\ \hline 917,09 \end{array}$$

c.

$$\begin{array}{r} 1271,5 \\ + 35,87 \\ \hline 1307,37 \end{array}$$

d.

$$\begin{array}{r} 302,59 \\ + 2,4 \\ + 48,53 \\ \hline 353,52 \end{array}$$

e.

$$\begin{array}{r} 30,8 \\ + 25,81 \\ + 33 \\ + 158,10 \\ \hline 247,71 \end{array}$$

Géographie : la Bulgarie

Réponds à ces questions sur ton cahier de brouillon, puis corrige-toi.

1. Quelle est la capitale de la Bulgarie ?

C'est Sofia

2. L'euro est-il la monnaie utilisée ?

Non, c'est le Lem.

3. Quelle mer borde la Bulgarie ?

C'est la mer Noire.

4. Quelle spécialité culinaire est mondialement connue ?

C'est le yaourt bulgare.

5. A quoi servent les roses cultivées en Bulgarie ?

Elles servent à faire des parfums dans le monde entier.

JEUDI 18 juin (Thursday, June, 18th 2020)

Lexique : des suffixes diminutifs

1. a. un crouton ; b. une coupelle ; c. un ânon ; d. un muret ; e. un barreau ; f. un renardeau ; g. un ballon ; h. une trompette ; i. un moulinet ; j. une voiturette ; k. une tourelle ; l. pâlot ; m. mordiller ; n. tapoter ; o. mâchonner.
2. a. une plante ; b. une louve ; c. une roue ; d. un sac ; e. une nappe ; f. une croix ; g. un camion ; h. un tonneau ; i. une prune ; j. une botte.
3. a. un oisillon ; b. un agnelet ; c. un moucheron ; d. une savonnette ; e. un chevreau ; f. une rondelle ; g. vieillot ; h. vivoter ; i. fendiller.
4. a. un cochon ; b. un billet ; c. un pinceau ; d. une chouette.

Mathématiques

1. Calcul mental

Corrige toi à l'aide d'une calculatrice.

2. Opérations

Corrige toi à l'aide d'une calculatrice !

3. Problème

Résous le problème suivant sur ton cahier.

Sofian a constaté que depuis la dernière visite médicale où il mesurait 1,32m, il a grandi de 0,05m.

Combien mesure-t-il à présent ? (en m et en cm)

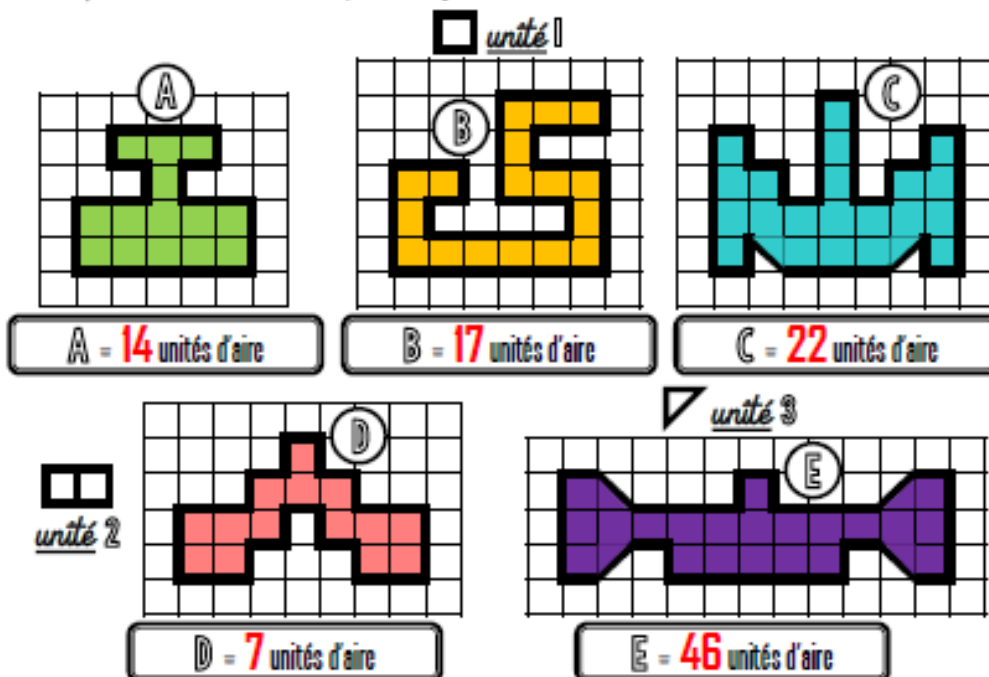
Je cherche combien il mesure à présent.

$$1,32 + 0,05 = 1,37$$

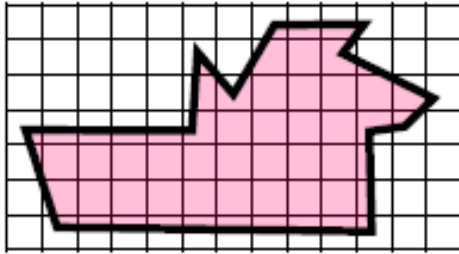
Il mesure 1,37m, ce qui fait 137 cm

4. Mesures :

① Exprime l'aire de chaque surface avec l'unité choisie.



② Estime l'aire de cette surface.



L'aire de cette surface
est comprise entre **24** carreaux et **58** carreaux.

③ Dessine 3 figures qui auront une aire de 15 unités A mais pas la même forme.



④ Dessine 2 figures qui auront une aire de 10 unités B mais pas la même forme.



<https://laclassedebleu.fr/>

Meures/ee airee

Géographie : l'Autriche

Réponds à ces questions sur ton cahier de brouillon, puis corrige-toi.

1. Quelle est la capitale de l'Autriche ?
C'est Vienne.
2. En quelle année ce pays a rejoint l'Union Européenne ?
C'était en 1995.
3. Quel fleuve passe à Vienne ?
Il s'agit du Danube.
4. Dans quelle mer va-t-il se jeter ?
Il se jette dans la Mer Noire.
5. Quelle langue parle-t-on en Autriche ?
On parle l'allemand.
6. Comment dit-on bonjour en allemand ?
On dit « Guten tag » (on prononce « gouten tag »)
7. Quelle est la spécialité culinaire inventée en Autriche ?
Ce sont les viennoiseries (comme les pains au chocolat, les croissants...)
8. Cite deux compositeurs autrichiens célèbres.
Il y a Johan Strauss et Mozart.

VENDREDI 19 juin (Friday, June, 19th 2020)

Orthographe : dictée

Une nourriture légère peut se composer d'une tranche de jambon et d'une salade. Pendant l'enfance, certaines maladies peuvent provoquer de l'angoisse et laisser des traces.

Paul avait un copain brutal. Mais sa violence a diminué au fil des années. Maintenant c'est lui qui éprouve de la pitié pour les gens maltraités.

L'intérêt du catch consiste à faire semblant d'étouffer son adversaire.

Lexique : des expressions imagées

1. Avoir un chat dans la gorge. → Être enroué.

Poser un lapin. → Ne pas aller à un rendez-vous.

Avoir un poil dans la main. → Être paresseux.

Prendre ses jambes à son cou. → S'enfuir très vite.

Se creuser la tête. → Réfléchir beaucoup.

Avoir du pain sur la planche. → Avoir beaucoup de travail.

Avoir le cœur sur la main. → Être généreux.

2. a. canard ; b. œufs ; c. pommes ; d. loup ; e. cheveu ; f. doigts.

g. Aujourd'hui, il gèle, il fait un froid de canard.

h. Elle a eu un malaise, elle est tombée dans les pommes.

i. Je regrette beaucoup ce que j'ai dit, je m'en mords les doigts.

j. Elle marche en silence, elle avance à pas de loup.

k. Il a un léger défaut de prononciation, il a un cheveu sur la langue.

l. Il n'est pas sûr de lui, il fait attention à ce qu'il dit et à ce qu'il fait, il marche sur des œufs.

3. a. poule ; b. loup ; c. éléphant ; d. cheval ; e. oiseau ; f. vipère ; g. chien ; h. crocodiles.

Mathématiques

1. Calcul mental

Corrige toi à l'aide d'une calculatrice.

2. Opérations

Corrige toi à l'aide d'une calculatrice !

3. Problème

Résous le problème suivant sur ton cahier.

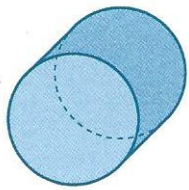
Les 444 places de ce parking sont réparties équitablement sur 3 étages.

Combien de places de parking y a-t-il à chaque étage ?

Je cherche le nombre de places de parking à chaque étage.

$$444 : 3 = 148$$

1 *



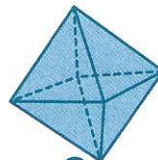
C



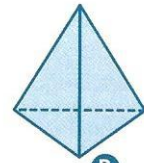
E

Les solides C et E ne sont pas des polyèdres.

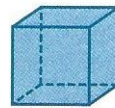
3 *



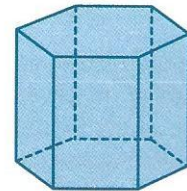
A



B



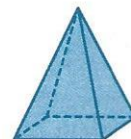
C



D



E



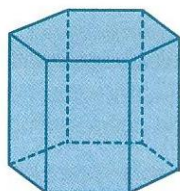
F

	Solide
Faces carrées	C F
Faces rectangulaires	E D
Faces triangulaires	A B F
Faces hexagonales	D

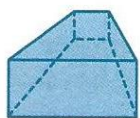
4 *



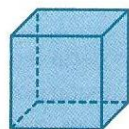
A



B



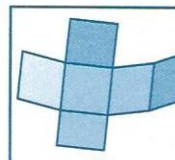
C



D

Solide A → 6 faces, 8 sommets, 12 arêtes
 Solide B → 8 faces, 12 sommets, 18 arêtes
 Solide C → 6 faces, 8 sommets, 12 arêtes
 Solide D → 6 faces, 8 sommets, 12 arêtes


5 *



A



2




B



1



C



3

A et 2
 B et 1
 C et 3

Géographie : la Roumanie

Réponds à ces questions sur ton cahier de brouillon, puis corrige-toi.

1. Quelle est la capitale de la Roumanie ?

C'est Bucarest.

2. En quelle année le pays a rejoint l'Union européenne ?

C'est en 2007 que la Roumanie a rejoint l'Union.

3. La monnaie utilisée est-elle l'euro ?

Non, c'est le Leu.

4. Quel fleuve traverse le pays ?

C'est le Danube.

5. Quel château célèbre y trouve-t-on ?

C'est le château du conte Dracula.

6. Quels animaux y trouve-t-on ? Comment font les habitants pour avoir de l'eau douce ?

Des bisons, des loups et des ours bruns, ainsi que des pélicans.