

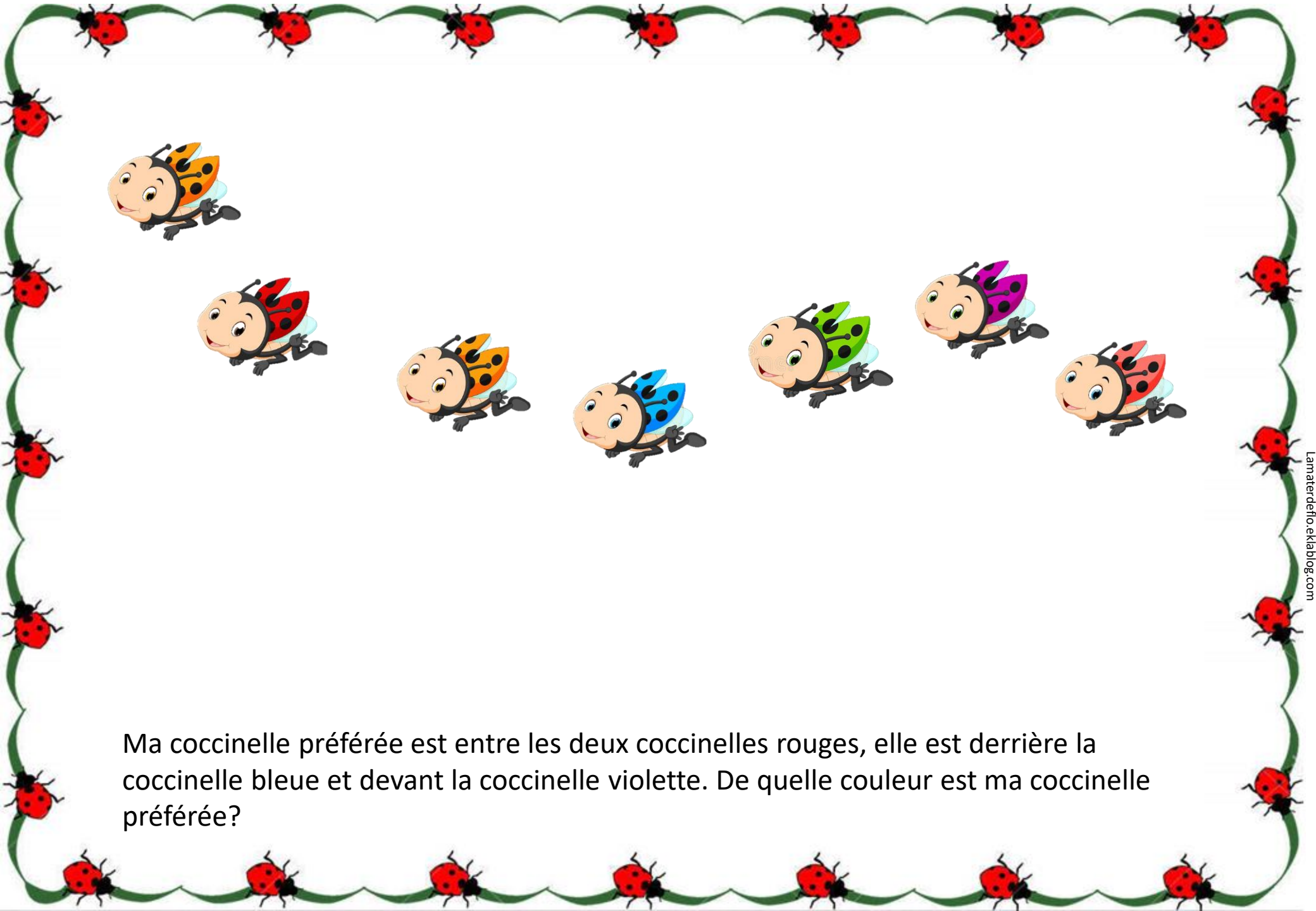
Compte combien il y a de coccinelles sur la feuille. Si 2 coccinelles finissent par s'envoler. Combien de coccinelles reste-t-il sur la feuille?





Je vois 2 coccinelles posées sur une feuille, et 1 autre qui vole dans le ciel
Combien vois-je de coccinelles en tout?



Ma coccinelle préférée ne vole pas. Elle est posée dans le jardin sur un légume. Elle est toute seule dessus. De quelle couleur est ma coccinelle préférée ?



Ma coccinelle préférée est entre les deux coccinelles rouges, elle est derrière la coccinelle bleue et devant la coccinelle violette. De quelle couleur est ma coccinelle préférée?



Les coccinelles doivent toutes avoir 3 points, trouve combien de points chaque coccinelle a sur son aile cachée?



Trouve les coccinelles identiques au modèle (4)